

Ime in priimek

--	--	--	--	--	--	--	--	--	--

Vpisna številka

1	
2	
3	
4	
Σ	


Matematika: prvi izpit - računski del

26. januar 2024

Čas pisanja je 90 minut. Dovoljena je uporaba 1 lista A4 formata s formulami. Za pozitivno oceno je potrebno zbrati vsaj 50 točk. Poskusi prepisovanja, pogovarjanja, uporaba elektronskih pripomočkov so strogo prepovedani. **Vse odgovore dobro utemeljite!**

1. naloga (25 točk)

a) (10 točk) Zapiši kompleksno število $z = \sqrt{2}e^{\frac{5\pi}{4}i}$ v obliki $z = x + yi$ in izračunaj z^4 .


$$z = \sqrt{2} \left(\cos \frac{5\pi}{4} + i \sin \frac{5\pi}{4} \right) \quad (1)$$
$$z = \sqrt{2} \left(-\frac{\sqrt{2}}{2} + i \cdot \left(-\frac{\sqrt{2}}{2}\right) \right) \quad (1)$$
$$z = -1 - i \quad (1)$$

$$z^4 = (\sqrt{2})^4 \cdot e^{\frac{20\pi}{4}i} \quad (1)$$
$$= 4 \cdot e^{5\pi i} \quad (1)$$
$$= 4 \left(\cos(5\pi) + i \sin(5\pi) \right) \quad (1)$$
$$z^4 = -4 \quad (1)$$

b) (15 točk) Reši enačbo $2\bar{z} = -iz^2$.

$$z = x + yi$$

$$2(x - yi) = -i(x + yi)^2$$
$$2x - 2yi = -i(x^2 + 2xyci + y^2i^2) \quad (1)$$
$$2x - 2yi = -x^2i - 2xyi^2 + y^2i \quad (1)$$
$$2x - 2yi = -x^2i + 2xy + y^2i \quad (1)$$

Re: $2x = 2xy \rightarrow y = 1 \quad (1)$ ALI $x = 0 \quad (1)$

Im: $-2y = -x^2 + y^2$

$y = 1 \rightarrow -2 = -x^2 + 1 \quad (1)$
 $+3 = +x^2$
 $x = \pm\sqrt{3} \quad (2)$

$x = 0 \rightarrow -2y = y^2 \quad (1)$
 $0 = y(2 + y)$

$y_1 = 0 \quad (2)$
 $y_2 = -2$

$z_1 = \sqrt{3} + i \quad (1)$
 $z_2 = -\sqrt{3} + i$

$z_3 = 0$
 $z_4 = -2i \quad (1)$

2. naloga (25 točk)

Naj bo podana funkcija s predpisom $f(x) = \frac{e^x}{x^2}$.

a) (10 točk) Zapiši enačbo tangente na f v točki $x = 1$.

$$f'(x) = \frac{e^x \cdot x^2 - e^x \cdot 2x}{x^4} = \frac{x \cdot e^x (x-2)}{x^4} = \frac{e^x (x-2)}{x^3} \quad (3)$$

$$f'(1) = \frac{e \cdot (-1)}{1} = -e \quad (1)$$

$$f(1) = \frac{e}{1} = e \quad (1)$$

$$e = 1 \cdot -e + n$$


$$n = 2e \quad (2)$$

$$\underline{y = -e \cdot x + 2e} \quad (3)$$

b) (15 točk) Določi definicijsko območje, stacionarne točke in območja naraščanja in padanja funkcije f .

$$D_f = \mathbb{R} - \{0\} \quad (2)$$

stac. točke: $f'(x) = 0 \quad (2) \quad x = 2 \quad f(2) = \frac{e^2}{4} \quad (1)$ $T(2, \frac{e^2}{4})$ lok. (3) minimum

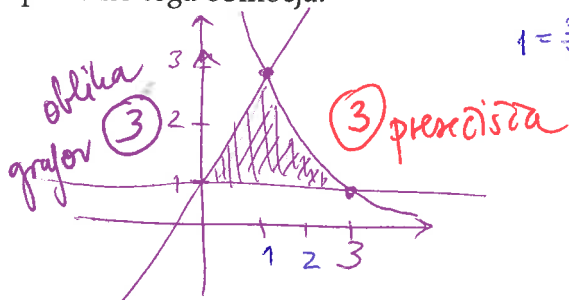


naraščanje: $x \in (-\infty, 0), [2, \infty) \quad (2)$

padanje: $x \in (0, 2] \quad (2)$

3. naloga (25 točk)

a) (20 točk) Skiciraj območje, ki ga omejujejo $y = 1$, $y = 2x + 1$ in $y = \frac{3}{x}$. Izračunaj ploščino tega območja.



$$1 = \frac{3}{x} \quad x = 3$$

$$S = \int_0^1 (2x+1-1) dx + \int_1^3 \left(\frac{3}{x}-1\right) dx \quad (5)$$

$$= \int_0^1 2x dx + \int_1^3 \left(\frac{3}{x}-1\right) dx$$

$$= 2 \cdot \frac{1}{2} x^2 \Big|_0^1 + (3 \log|x| - x) \Big|_1^3$$

$$= 1 - 0 + (3 \log 3 - 3) - (3 \log 1 - 1) \quad (3)$$

$$= 1 + 3 \log 3 - 3 + 1 \quad (2)$$

$$= \underline{\underline{3 \log 3 - 1}} \quad (1)$$

b) (5 točk) Poišči kakšno funkcijo, katere odvod je enak $\cos^2 x \sin x$.

$$f'(x) = \cos^2 x \sin x$$

$$f(x) = \int \cos^2 x \sin x dx \quad (1)$$

$$t = \cos x \quad (1)$$

$$dt = -\sin x dx$$

$$= \int t^2 \cdot \sin x \cdot \frac{-dt}{\sin x}$$

$$= \int t^2 dx$$

$$= -\frac{1}{3} t^3 + C \quad (1)$$

$$= -\frac{1}{3} \cos^3 x + C \quad (1)$$

$$\text{Recimo: } \underline{\underline{f(x) = -\frac{1}{3} \cos^3 x + 1}} \quad (1)$$

4. naloga (25 točk)

Reši sistem enačb.

$$x + 3y - z + 3w = -5$$

$$y + z + 2w = -1$$

$$x + 2y - 3z = 0$$

$$\left[\begin{array}{cccc|c} 1 & 3 & -1 & 3 & -5 \\ 0 & 1 & 1 & 2 & -1 \\ 1 & 2 & -3 & 0 & 0 \\ 0 & 0 & 0 & 0 & 0 \end{array} \right] \rightarrow \left[\begin{array}{cccc|c} 1 & 3 & -1 & 3 & -5 \\ \textcircled{0} & 1 & 1 & 2 & -1 \\ \textcircled{0} & 1 & 2 & 3 & -5 \\ \textcircled{0} & 0 & 0 & 0 & 0 \end{array} \right] \rightarrow \left[\begin{array}{cccc|c} 1 & 3 & -1 & 3 & -5 \\ 0 & 1 & 1 & 2 & -1 \\ 0 & \textcircled{0} & 1 & 1 & -4 \\ 0 & \textcircled{0} & 0 & 0 & 0 \end{array} \right]$$

$$\rightarrow \left[\begin{array}{cccc|c} 1 & 0 & -4 & -3 & -2 \\ 0 & 1 & 0 & 1 & 3 \\ 0 & 0 & 1 & 1 & -4 \\ 0 & 0 & 0 & 0 & 0 \end{array} \right] \rightarrow \left[\begin{array}{cccc|c} 1 & 0 & 0 & 1 & -18 \\ 0 & 1 & 0 & 1 & 3 \\ 0 & 0 & 1 & 1 & -4 \\ 0 & 0 & 0 & 0 & 0 \end{array} \right]$$

$$w = t \quad \textcircled{1}$$

$$x + w = -18 \quad x = -18 - w \quad \textcircled{2}$$

$$y + w = 3 \quad y = 3 - w \quad \textcircled{2}$$

$$z + w = -4 \quad z = -4 - w \quad \textcircled{2}$$

rešitev : $(-18-t, 3-t, -4-t, t)$ $\textcircled{3}$ $t \in \mathbb{R}$